



Cuadernillo de Matemática

2º Año

2019

- Completá los cuadros:

1 menos		1 más
	755	
	129	
	544	
	999	

10 menos		10 más
	788	
	201	
	310	
	609	

100 menos		100 más
	755	
	129	
	544	
	273	

- Escribí los nombres de estos números:

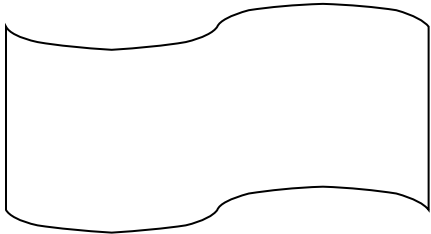
169	
358	

- Armá y desarmá, según corresponda, los siguientes números:

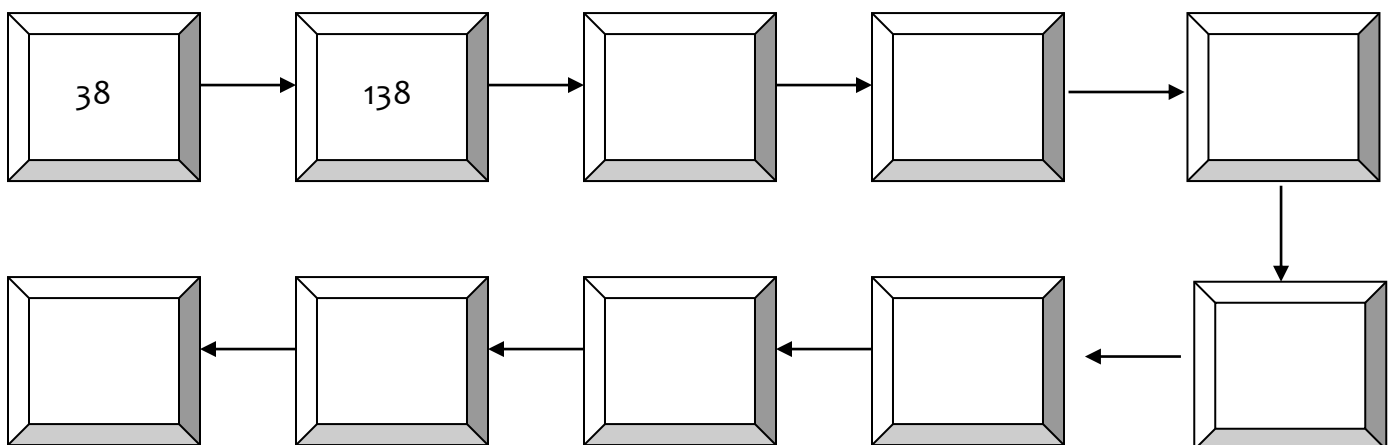
Número	Lo desarmo	Lo escribo con letras
985		
	$2 + 600 + 30$	
		Mil trescientos cincuenta y nueve
454		Cuatrocientos cincuenta y cuatro

- Adivina, adivinador...

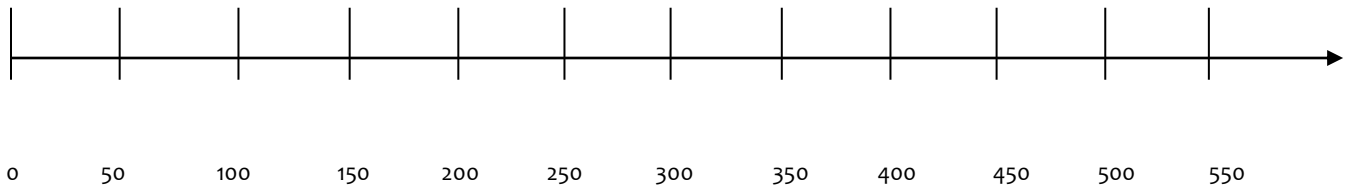
- Está entre 600 y 700.
- Es mayor que 650.
- Está antes que el 670.
- En el lugar de los dieces, hay un 6.
- Termina en 8.



- Completá la serie, de 100 en 100:



- Marcá los siguientes números en la recta numérica: 250, 349, 545.



- Pintá según la consigna:

Esta tabla muestra cuántos habitantes hay en tres pueblos.

¿Cuál es el pueblo que tiene menos habitantes? Pintá la respuesta con color verde

¿Cuál es el pueblo que tiene más habitantes? Pintá la respuesta con color rojo.

Pueblo A	909 habitantes
Pueblo B	999 habitantes
Pueblo C	990 habitantes

- Resolvé las siguientes situaciones:

Usando **la menor cantidad posible** de billetes de \$10 y \$100 y monedas de \$1, formá las siguientes cantidades dibujando los billetes:

\$ 234

\$ 155

- Encolumná y resolvé:

$395 + 132 =$	$429 - 265 =$
$234 + 76 =$	$567 - 106 =$
$367 - 129 =$	$475 + 600 =$

- Resolvé mentalmente

$800 + 479 =$
$576 - 200 =$
$220 + 530 =$

- Situaciones problemáticas

El señor Tararira pescó 17 peces, pero devolvió 9 al agua porque eran muy pequeños.

¿Cuántos peces le quedaron?

Respuesta:

Alina está contenta porque agregó 32 caracoles a su colección y llegó a 100. ¿Cuántos caracoles tenía la colección de Alina antes de su último agregado?

Respuesta:

Para llevar los morrones al mercado, Don Rubén armó bolsitas con 6 morrones cada una. El martes, llevó 8 bolsitas. ¿Cuántos morrones llevó?

Respuesta:

En el videojuego favorito de Mati hay 16 moscas y 7 sapos. Cada sapo atrapa una mosca. ¿Cuántas moscas quedan sin atrapar?

Respuesta:

Los 15 alumnos de segundo grado y los 22 alumnos de tercero se irán juntos de excursión en un micro. ¿Cuántos asientos van a ocupar?

Respuesta:

Manuel y Pedro decidieron regalar todos sus muñecos a un primo. Manuel tiene 30 y Pedro 25. ¿Cuántos muñecos le darán a su primo entre los dos?

Respuesta:

a) ¿Cuántas calcomanías trae esta plancha?



b) ¿Cuáles de estos cálculos permiten averiguarlo?

$$5 + 5 + 5 + 5 + 5 + 5 + 5$$

$$5 + 5 + 5 + 5$$

$$10 + 10 + 10 + 5$$

$$7 + 7 + 7 + 7 + 7$$

$$14 + 7$$

$$14 + 14 + 7$$